

Collège Rémy FAESCH  
Place Joffre 68800  
THANN

## BREVET BLANC Mai 2008

au choix: HISTOIRE ou GEOGRAPHIE

obligatoire : EDUCATION CIVIQUE

obligatoire : REPERES

### HISTOIRE: La France dans la crise des années 1930

**Document 1** Quelques indicateurs socio-économiques de 1929 à 1935

	1929	1930	1931	1932	1933	1934	1935
<b>Production industrielle</b> (indice 100 en 1929)	100	98	85	72	81	75	72
<b>Revenus agricoles</b> (indice 100 en 1929)	100	79	69	59	58	46	41
<b>Salaires</b> (indice 100 en 1929)	100	106	101	92	88	81	75
<b>Chômeurs secourus</b>	1000	1700	45000	260 000	275000	335000	426000

**Document 2** Un ouvrier se souvient des lois de 1936


C'était un de mes meilleurs souvenirs: ça a été mes douze premiers jours de congés payés. Parce que, jusque-là, on n'avait rien. En plus, il y avait les quarante heures, mais payées quarante-huit heures [...].

Puis sont arrivées les conventions collectives, où un patron n'avait plus le droit de payer un ouvrier selon qu'il le jugeait d'après sa mine, s'il avait de grandes oreilles ou pas.

On peut dire qu'on a connu une certaine prospérité après 1936. On venait de traverser la crise de 1930 avec les petits salaires, les cigarettes que l'on achetait au détail. A partir de 1937, les salaires ont sérieusement augmenté; on a commencé à voir fleurir tous les postes de radio dans la cité, les bicyclettes. En un an, il y a eu un changement terrible.

S. Bonnet, *L'Homme de fer*. Presses universitaires de Nancy, 1987.

**Document 3** Une plage pendant l'été 1936, vue par un caricaturiste



- Oh ! Horreur! Impossible de rester ici. Ils se baignent dans notre océan, ils respirent notre air et se font brunir par notre soleil !

### QUESTIONS

#### Document 1

1. Quels aspects de la crise révèlent les indicateurs ? Justifiez votre réponse.

#### Document 2

2. L'ouvrier se souvient de quatre mesures du Front populaire: lesquelles?

#### Document 3

3. a) À quelle mesure du gouvernement Blum les deux personnages à gauche de l'image font-ils allusion  
3. b) Comparez leur opinion à celle de l'ouvrier.

### Paragraphe argumenté (10 points)

4. Rédigez un paragraphe argumenté d'une vingtaine de lignes répondant au sujet suivant: La France dans la crise des années 1930. Vous utiliserez en priorité vos connaissances ainsi que les informations prélevées dans les documents.

## GEOGRAPHIE: Les villes, reflet de la puissance des Etats-Unis?

### Document 1 Les fonctions de commandement des mégaloportes américaines

Les États-Unis disposent désormais de deux mégaloportes: la mégaloporte historique qui va de Boston à Washington, mais aussi celle qui se constitue sur la côte ouest en Californie. Ces mégaloportes ont des fonctions de commandement différentes. La plus ancienne, celle du Nord-Est, concentre les sièges des pouvoirs qui interviennent au niveau mondial: Maison Blanche (1), Pentagone (2), Banque mondiale et FMI (3) à Washington, ONU et Bourse de Wall Street à New York, universités renommées à Boston. La mégaloporte de l'Ouest américain regroupe des pouvoirs importants au plan des nouvelles technologies, avec notamment la Silicon Valley, mais aussi l'étonnante concentration des « pouvoirs culturels » à Los Angeles, où se situe le pôle mondial des médias.

D'après M. Goussot, *Les Grandes Villes américaines*, A. Colin, 2000.

1. Maison Blanche: résidence du président des Etats-Unis.

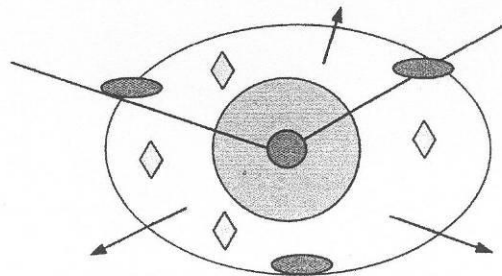
2. Pentagone: bâtiment abritant le secrétariat d'Etat à la Défense et l'Etat-major des forces armées des Etats-Unis. 3. FMI: Fonds monétaire international.

### Document 2

Vue aérienne du CBD de San Francisco



### Document 3 L'organisation des espaces urbains aux Etats-Unis



- |   |   |
|---|---|
|  CBD (Central Business District : centre d'affaires). Activités de commandement : sièges de firmes multinationales, grandes banques... |  Nouvelles poches de pauvreté  |
|  Quartiers d'usines, entrepôts, habitat dégradé, ghettos (minorités ethniques). Rénovation de certains centres                         |  Nouveaux centres périphériques : activités commerciales et industrielles, bureaux |
|  Banlieues pavillonnaires  |  Axes importants (voies ferrées, routes, autoroutes)                               |
|   |  Croissances des banlieues   |

## QUESTIONS

Documents 1 et 3

1. Nommez les deux mégalo-poles des États-Unis. Relevez les fonctions de commandement qu'elles exercent. (Quatre réponses attendues.)

Documents 2 et 3

2. Que signifie CBD ? Décrivez le CBD de la ville de San Francisco.

Document 3

3. Montrez que, dans l'espace urbain, des quartiers sont exclus de la puissance des États-Unis.

### Paragraphe argumenté (10 points)

4. Rédigez un paragraphe argumenté d'une vingtaine de lignes répondant au sujet suivant: les villes, reflet de la puissance des États-Unis

## EDUCATION CIVIQUE: Le vote, base de la Démocratie

**Document 1** Au sujet du référendum du 24 septembre 2000

Excuses

« Le 24 septembre dernier, je suis allé voter, comme toujours. Parce que chaque fois que je suis appelé à exercer mon droit démocratique de citoyen, deux ombres s'approchent de moi. L'une est celle d'un camarade de lycée, juif, dont je n'ai jamais connu le vrai nom, et qui est tombé les armes à la main dans un maquis savoyard. L'autre est de Pachke, autre camarade de classe, protestant et résistant, qui a été fusillé par les nazis dans le Vaucluse.

Ils sont morts pour la liberté et la démocratie, pour ma liberté et mon droit de vote.

Leurs ombres m'accompagnent jusqu'à l'urne dans laquelle je glisse mon enveloppe. Je la leur dois ! Je vote oui ou non, pour Paul, Pierre ou Roger, pour la liste A, B, C ou O, ou encore nul, mais je vais toujours voter.

Abstentionnistes, je n'admets aucune de vos bonnes ou mauvaises excuses.

Lettre de M.-G. CH., *Les Dernières Nouvelles d'Alsace*,

**Document 2** Les dangers de l'abstention



Avril 2002.

**Document 3** Extraits de la Constitution de la République française de 1958 et de la loi du 6 juin 2000

Article 3 - La souveraineté nationale appartient au peuple qui l'exerce par ses représentants et par la voie du référendum. [...]

Le suffrage peut être direct ou indirect dans les conditions prévues par la Constitution. Il est toujours universel, égal et secret.

Sont électeurs, dans les conditions déterminées par la loi, tous les nationaux français majeurs des deux sexes, jouissant de leurs droits civils et politiques.

Loi du 6 juin 2000 - La loi favorise l'égal accès des femmes et des hommes aux mandats électoraux et fonctions électives.

## QUESTIONS

### Documents 1 et 3

1. Comment appelle-t-on les personnes qui ont le droit de voter? Qui peut exercer ce droit d'après la Constitution de la République française

### Documents 1

2. A quel régime politique l'auteur associe-t-il le droit de vote? Par opposition à quel autre type de régime?

### Document 1 et 2

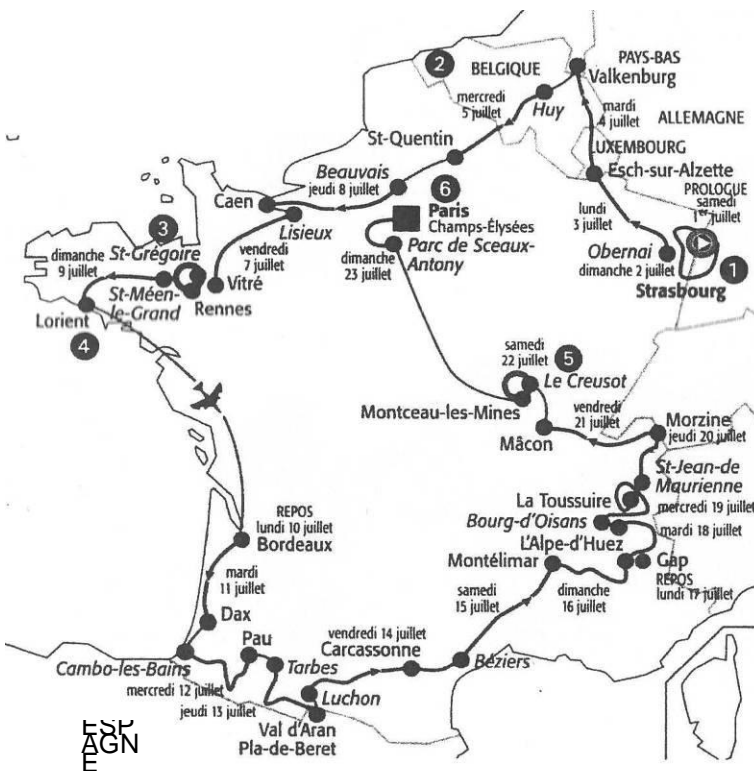
3. Quel danger est évoqué dans ces deux documents? Quel risque fait-il courir à la démocratie

### Paragraphe argumenté (8 points)

4. A partir des informations extraites des documents et de vos connaissances personnelles, rédigez un paragraphe argumenté d'une vingtaine de lignes répondant au sujet suivant: Le vote, base de la démocratie

## EXERCICE de REPERAGE: Le Tour de France d'histoire et de géographie

(à découper et coller sur la feuille 1e)



1) Strasbourg est le siège du Parlement européen. Quand fut signé le traité de Rome qui marque le début de la construction européenne?

2) Le Tour de France 2006 est passé par la Belgique, les Pays-Bas, le Luxembourg et l'Espagne, ces quatre pays ont appartenu à la France sous Napoléon 1er. Comment se nomme le régime politique mis en place par Napoléon 1er entre 1804 et 1815 ?

3) Dans quelle région administrative se trouvent les villes de Rennes et Lorient?

4) A proximité de quel océan se trouve la ville de Lorient?

5) Le Creusot est une ville rendue célèbre par l'industrie et la dynastie des Schneider. A quelle période se situe le début de l'âge industriel?

6) L'arrivée du Tour se fait à Paris. La cathédrale de la capitale se nomme Notre-Dame de Paris. Quel est le siècle des cathédrales?

1 point par réponse